

La población en España y en la Región de Murcia

Aprenderás...

- 1 Cómo ha evolucionado la población española y su distribución en el territorio.
- 2 Los movimientos naturales y la estructura de la población española.
- 3 Las emigraciones interiores y exteriores protagonizadas por los españoles.
- 4 La inmigración que recibe en la actualidad nuestro país.
- 5 Las características de la población de tu comunidad autónoma.

Serás capaz de...

- Reconocer las fases de la evolución de la población española y las características de cada una de ellas.
- Localizar las áreas de mayor y menor densidad demográfica.
- Identificar las tasas demográficas que definen los movimientos naturales y sus condicionantes.
- Conocer las motivaciones y las consecuencias de los movimientos migratorios.



DESARROLLA TUS COMPETENCIAS

Los pueblos abandonados



Desde el siglo XVIII, muchos españoles comenzaron a emigrar desde el campo a las ciudades en busca de trabajo. Esta tendencia se ha mantenido hasta la actualidad, por lo que una gran parte de las zonas rurales del interior del país han quedado deshabitadas. Se calcula que en España hay más de 3000 pueblos completamente abandonados.

Elías Rubio, escritor burgalés, ha escrito varios libros sobre este tema:

La despoblación del medio rural es un hecho que creo irreversible. Nadie quiere quedarse en los pueblos, aunque ahora tengan mejores servicios que nunca. Las ciudades tienen un poder de atracción tal, que por mucho que se haga para asentar población en ellos será una tarea vana. Los pueblos se llenan en verano, especialmente de jubilados que viven en la ciudad y que mantienen los recuerdos vivos, pero eso es un espejismo, la vida de continuo en ellos, y la sociedad rural, tal como fue, ha desaparecido casi por completo.

Cada vez que un pueblo queda abandonado se pierde un poco de nuestra cultura y patrimonio. El abandono de las zonas rurales supone también un perjuicio al medioambiente, puesto que los habitantes de los pueblos han desarrollado una relación de sostenibilidad con su entorno durante generaciones.

Hoy día existen personas e iniciativas que pretenden llevar a cabo proyectos de repoblación del medio rural, como podemos ver en el siguiente vídeo:

www.e-sm.net/2ccss33

- Investiga en qué consisten dichas iniciativas y cuáles se están llevando a cabo en tu comunidad autónoma.

Observa la imagen.

¿Qué ventajas e inconvenientes ofrece la vida en las ciudades frente a la de los pueblos?

5 La población murciana



La Región de Murcia presenta la tasa de natalidad más alta de toda España.

5.1. La población murciana y su distribución

Murcia tiene una población aproximada de 1 470 000 habitantes y una densidad cercana a los 130 hab/km², lo que le convierte en una de las comunidades autónomas más densamente pobladas. La población se distribuye de forma muy irregular por el territorio:

- Se **concentra** en el área metropolitana de Murcia, en los valles del río Segura y Guadalentín, y en el área costera. Estas zonas se han visto favorecidas por un importante desarrollo económico en los últimos años, lo que ha provocado la llegada de inmigrantes.
- Las **densidades más bajas** se dan en las regiones interiores del noroeste y del Altiplano, y en las zonas montañosas, con comunicaciones difíciles y terrenos más accidentados.

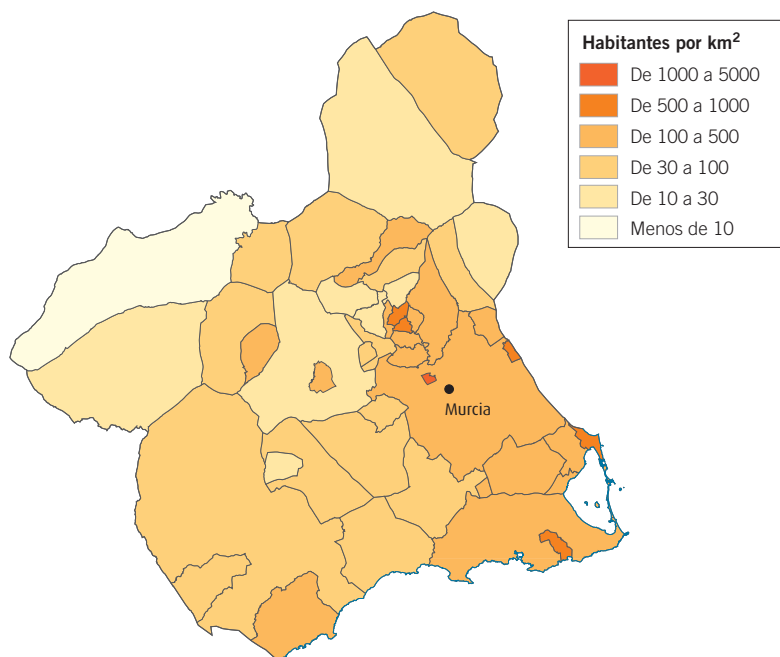
5.2. La población murciana en cifras

Murcia muestra un dinamismo demográfico muy superior al del resto de España:

- La **tasa de natalidad**, que alcanza un 12,1 por mil, es la más alta de todas las comunidades autónomas.
- La **tasa de mortalidad**, con un 6,9 por mil es, por el contrario, una de las más bajas de España.
- Por tanto, Murcia experimenta un **crecimiento natural** muy superior a la media nacional.
- La **esperanza de vida** ha crecido mucho en las últimas décadas, y se sitúa en 79 años para los hombres y 84 años para las mujeres.
- La población murciana es **más joven** que la del conjunto de España.

Estas peculiaridades son debidas a que la evolución del comportamiento demográfico en Murcia está muy condicionada por la inmigración que ha llegado en los últimos años.

DENSIDAD DE POBLACIÓN EN LA REGIÓN DE MURCIA



Trabaja con el mapa

34. ¿Dónde se concentra la población murciana? ¿Por qué razones?
35. ¿Dónde se dan las densidades más bajas?

5.3. Los movimientos migratorios en la Región de Murcia

En el pasado, Murcia fue una **región de emigrantes**:

- Entre los años cincuenta y sesenta del siglo xx se produjo la mayor parte del **éxodo rural**.

Los emigrantes de entonces eran preferentemente campesinos que no poseían tierras propias y que se fueron a las grandes ciudades españolas, sobre todo a Madrid, Barcelona y Bilbao.

- A partir de 1960 comenzó la **emigración exterior**, que se dirigió especialmente a Alemania, Francia y Suiza. Muchos de esos emigrantes regresaron a Murcia una o dos décadas después.

Actualmente, Murcia es una región receptora de gran cantidad de **inmigrantes**. Así, un 12% de su población es extranjera.

En general, se distinguen **dos tipos de inmigrantes**:

- Trabajadores**, sobre todo marroquíes y ecuatorianos, que desempeñan su labor en agricultura, construcción, hostelería y servicio doméstico.
- Jubilados** españoles y europeos, que eligen Murcia como lugar de retiro.

No obstante, la **crisis económica** de los últimos años ha interrumpido la llegada de población inmigrante, al tiempo que ha hecho aumentar los movimientos migratorios de los murcianos hacia otras zonas de España y Europa.

5.4. La estructura de la población de la Región de Murcia

La estructura de población en la Región de Murcia muestra las siguientes características.

- En la Región de Murcia hay un **porcentaje de jóvenes** muy superior al del resto del país. No obstante, la población muestra signos de envejecimiento.
- La relación entre el número de **hombres y mujeres** es bastante equilibrada, si bien a partir de los 65 años se incrementa el porcentaje femenino, ya que su esperanza de vida es más alta.
- En cuanto a la estructura de la **población activa**, el porcentaje de población desempleada en la Región de Murcia, que hoy alcanza el 13%, es inferior al del conjunto del Estado.
- Entre la población ocupada predomina el **sector servicios**, que ocupa al 62% de la población.
- En la **industria** y la **construcción** están empleados el 28% de los trabajadores.
- La agricultura en la Región de Murcia mantiene un cierto peso, con el 10% de los ocupados, un porcentaje mayor que la media de la Unión Europea.

Actividades

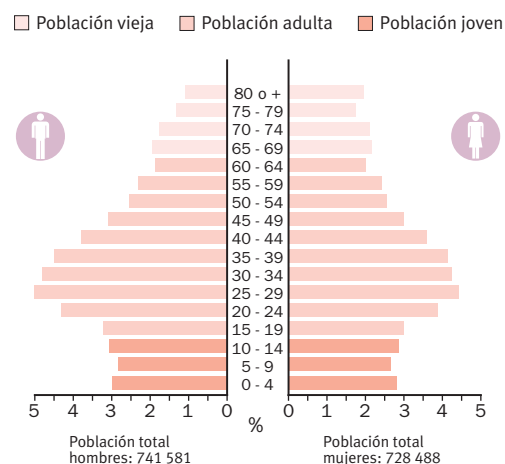
Sintetiza

- 36.** ¿Cómo es el crecimiento natural de la población murciana? ¿Cuáles son los factores que influyen en ese crecimiento?
- 37.** Describe la evolución de los movimientos migratorios en Murcia. ¿Qué importancia han tenido para la evolución demográfica de la región?

Razona

- 38.** ¿Por qué se ha interrumpido la llegada de inmigrantes a nuestra región en los últimos años? ¿Qué consecuencia puede tener sobre la tasa de natalidad?

PIRÁMIDE DE POBLACIÓN DE LA REGIÓN DE MURCIA

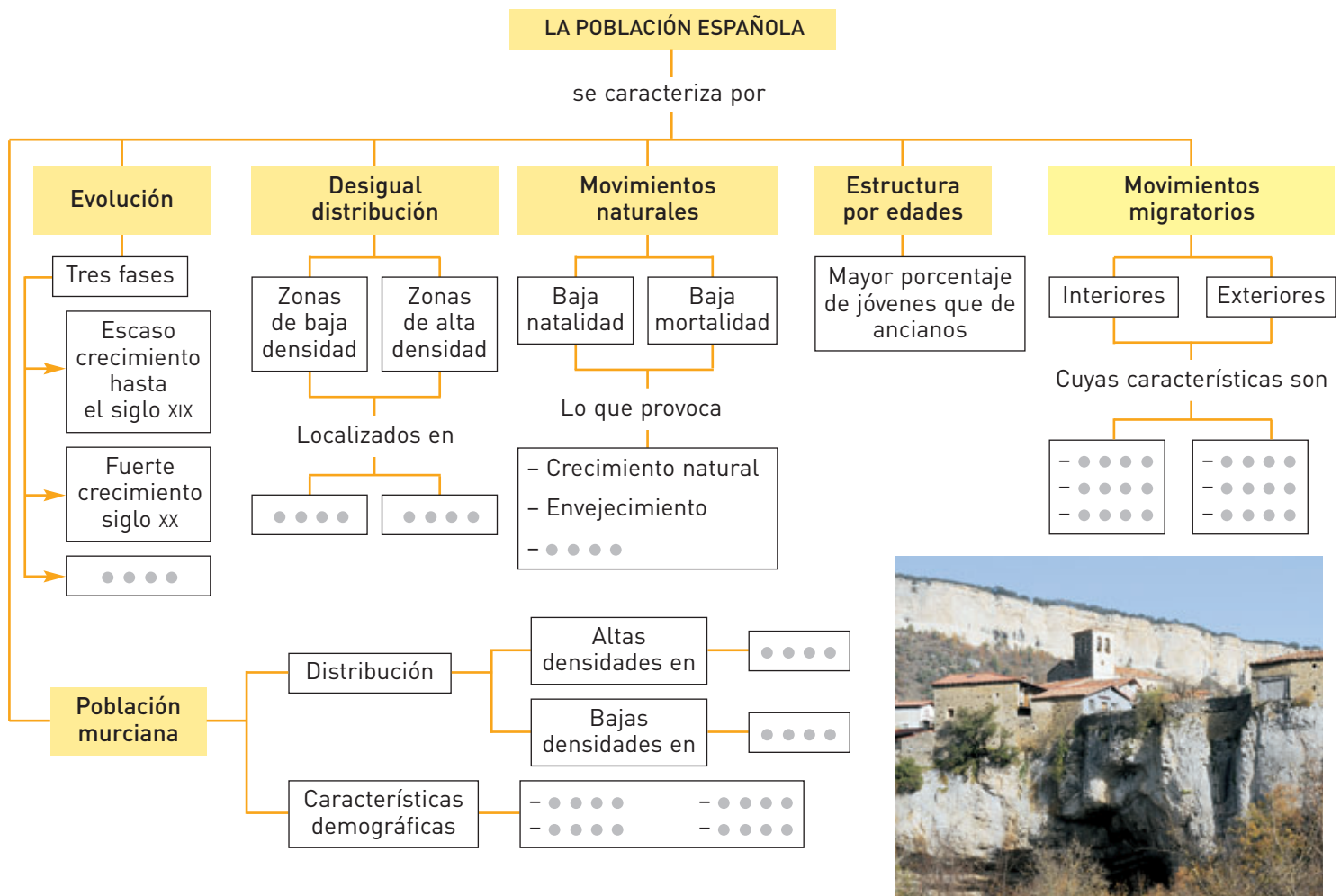


Trabaja con el gráfico

- 39.** Describe la pirámide de población de la Región de Murcia. ¿Qué indica esa base tan estrecha?

AVERIGUA LO QUE SABES


1. Copia el siguiente esquema en tu cuaderno y complétalo con las ideas clave de la unidad.



[**LIBROS VIVOS . NET** ➔ UD12 ➔ INTERACTIVOS ➔ 250. Comprueba que has rellenado correctamente el esquema.

2. Copia en tu cuaderno las siguientes frases y completa los espacios en blanco.

- a** La población española en la actualidad asciende a
- 20 millones - 47 millones - 57 millones
- b** El mayor crecimiento de la población española se dio entre los años
- 1950 y 1975 - 1920 y 1950 - 1975 y 1990
- c** Las mayores densidades demográficas de España se localizan en
- El interior de la Península - El norte peninsular - Las áreas litorales y los dos archipiélagos
- d** La tasa de natalidad española es reducida y se sitúa en el
- 20,7‰ - 10,7‰ - 1,7‰
- e** España tiene una alta esperanza de vida, lo que da lugar en la población
- Envejecimiento - Rejuvenecimiento - Elevado crecimiento natural
- f** En la actualidad en los movimientos migratorios de España predomina
- El éxodo rural - La emigración a Europa - Una intensa inmigración



[**LIBROS VIVOS . NET** ➔ UD12 ➔ AVERIGUA LO QUE SABES. Continúa repasando los contenidos de la unidad con el siguiente test.